



کد محصول
ES276



آخرین بروزرسانی
۱۷ آذر ۱۴۰۴

سوالات استخدامی

بانک سینا

- ✓ مطابق با منابع اعلام شده در آزمون استخدامی ۱۴۰۴
- ✓ نسخه رایگان شامل ۲۵۱ سوال (تعداد کمتر و تنها برخی دارای پاسخ)
- ✓ برای تهیه نسخه اصلی، با ۱۳۰۳ سوال به همراه پاسخنامه تشریحی، به سایت ایران عرضه مراجعه نمایید.



لینک های مفید آزمون استخدامی بانک سینا

سوالات رایگان بانک سینا با پاسخنامه	خرید این محصول
جزوه استخدامی بانک سینا	منابع آزمون
فایل اطلاعات آزمون	خرید سوالات ایران آزمون (مجری آزمون)
خرید درسنامه دروس عمومی	خرید سوالات استخدامی ۱۰ سال اخیر
خرید درسنامه مصاحبه	خرید سوالات مصاحبه
شبکه های اجتماعی ایران عرضه (فایل های رایگان + تخفیفات هفتگی + اخبار)	اخبار آزمون

(برای مشاهده هر بخش روی آن بزنید )

آخرین بروزرسانی ها:

۱۴۰۴/۰۹/۱۷ ایجاد فصل هشتم (اصل سوالات سال ۱۴۰۴)

۱۴۰۴/۰۸/۰۱ آپدیت محصول بر اساس منابع جدید

۱۴۰۴/۰۷/۱۲ اضافه شدن فصل های جدید به همراه اصل سوالات عمومی ادوار گذشته بانک ها و سایر سازمان های دولتی

۱۴۰۴/۰۲/۱۵ تالیف مجدد محصول

فهرست مطالب

- ❖ فصل اول: سوالات ادبیات فارسی و نگارش - صفحه ۴ (۱۰ سوال)
- ❖ فصل دوم: سوالات مهارت های هفتگانه کامپیوتر (ICDL) - صفحه ۶ (۱۰ سوال)
- ❖ فصل سوم: سوالات زبان انگلیسی عمومی - صفحه ۸ (۱۰ سوال)
- ❖ فصل چهارم: سوالات هوش و استعداد تحصیلی - صفحه ۹ (۱۰ سوال)
- ❖ فصل پنجم: سوالات GMAT - صفحه ۱۱ (۱۰ سوال)
- ❖ فصل ششم: سوالات مفاهیم پولی، مالی و خدمات بانکی تالیف ایران عرضه - صفحه ۱۴
 - ◀ بخش اول: سوالات بانکداری داخلی (۱۰ سوال)
 - ◀ بخش دوم: سوالات دانش علوم بانکی (۱۰ سوال)
 - ◀ بخش سوم: سوالات اصول بانکداری (۱۰ سوال)
 - ◀ بخش چهارم: سوالات بازارهای مالی و سرمایه (۱۰ سوال)
 - ◀ بخش پنجم: سوالات آشنایی با خدمات الکترونیکی بانکی (۱۰ سوال)
- ❖ فصل هفتم: سوالات آزمون استخدامی بانک سینا دی ۱۴۰۳ - صفحه ۲۴ (۶۴ سوال)

مفاهیم پولی، مالی و خدمات بانکی - مهارت های هفت گانه کامپیوتر (ICDL) - زبان انگلیسی عمومی - هوش و استعداد تحصیلی (GMAT)
- ❖ فصل هشتم: اصل سوالات آزمون استخدامی بانک سینا آبان ۱۴۰۴ - صفحه ۳۱ (۸۷ سوال)

ادبیات فارسی و آئین نگارش - هوش و استعداد تحصیلی - (GMAT) مهارت های هفتگانه کامپیوتر - (ICDL) مفاهیم پولی، مالی و خدمات بانکی - زبان انگلیسی

در هر بخش، تنها ۱ سوال ابتدایی دارای پاسخنامه تشریحی می باشد. در صورت تمایل به دریافت سوالات بیشتر با جواب تشریحی می توانید این محصول را از سایت ایران عرضه خریداری نمایید.

خرید محصول

❖ فصل اول: سوالات ادبیات فارسی و آیین نگارش

۱- معنی واژه‌های مشخص شده در دو بیت زیر، به ترتیب در کدام گزینه آمده است؟

اُوخ که شدم هیزم و آتشگر گیتی اندام مرا سوخت چنین ز آتش ادبار

خندید برو شعله که از دست که نالی ناچیزی تو کرد بدین گونه تو را خار

(۱) دریغ، همیشگی، تیغ (۲) افسوس، بدبختی، تیغ

(۳) افسوس، همیشگی، پست (۴) دریغ، بدبختی، پست

☑ پاسخ سایت ایران عرضه: گزینه ۴ ← معنی واژه های مشخص شده به ترتیب عبارتند از: اوخ/آوخ (افسوس، دریغ و هیهات) - ادبار (بدبختی، فلاکت و سیه روزی) - خار در این مصراع با توجه به معنی و مفهوم شعر، در اصل به صورت خوار بوده و برای زیبا نویسی به صورت خار نوشته شده است لذا در این مصراع واژه خوار مدنظر میباشد که معنی آن به صورت پست و حقیر و سرافکنده میباشد. با توجه به این معانی گزینه ۴ پاسخ صحیح میباشد.

۲- مفهوم کدام بیت در مقابل آن درست ذکر نشده است؟ (منبع ایران عرضه)

(۱) از گفته‌ی ناکرده و بیهوده چه حاصل؟ کردار نکو کن که نه سودی است نه گفتار: (پرهیز از علم بی حاصل)

(۲) دادند دو گوش و یک زبانت ز آغاز یعنی که دو بشنو و یکی بیش مگوی: (پرهیز از گزاف گویی)

(۳) آن شاخ که سر برکشد و میوه نیارد فرجام، به جز سوختنش نیست سزاوار: (پرهیز از بی ثمری)

(۴) تو به صورت رفته‌ای ای بی خیر زان ز شاخ معنی‌ای بی بار و بر: (پرهیز از ظاهر بینی)

۳- جمع و فرد کلمه‌ها در کدام گزینه درست است؟

(۱) جلد (اجلاء) - حفظ (حافظ) - آفت (أفات) - قوه (قوا)

(۲) وارث (ورثه) - سند (مستندات) - شرط (مشروط) - حکیم (حکما)

(۳) لون (الوان) - عجیب (عجای ۲) - مجلد (مجلدات) - وارث (وراث)

(۴) وحش (وحوش) - خروش (خروشان) - ملک (املاک) - سند (اسناء)

۴- در کدام گزینه تضاد وجود دارد؟

(۱) دست در دامن مولا زد، در که علی بگذر و از ما نگذر

(۲) دهقان چو تنور خود از بن هیمه برافروخت بگریست سپیدار و چنین گفت دگر بار

(۳) برگ درختان سبز در نظر هوشیار هر ورقش دفتریست، معرفت کردگار

۴) گر بود اختیار جهانی به دست من می‌ریختم تمام جهان را به پای تو

۵- در متن «متوجه شد که سربازان دشمن بعضی به صورت قافلگیر کننده از رودخانه‌ی بهمنشیر گذشته‌اند و می‌خواهند شهر محاصره شده آبادان را اشغال کنند» چند غلط املائی وجود دارد؟

۱) دو (۲) سه (۳) چهار (۴) پنج

۶- واژه‌های «خَلَق، کاره، کربت، مرادف» یعنی

۱) خواری، زندان، ناشنوایی، هدف (۲) جمعیت، کوشا، ناشنوا، هماهنگ

۳) نگران، شایسته، اندوه، هدفمند (۴) کهنه، ناپسند، اندوه، مترادف

۷- نام نویسندگان «سبک شناسی» و «یکی بود یکی نبود» در کدام گزینه به درستی و به ترتیب آمده است؟

۱) ملک الشعرای بهار - محمدعلی جمالزاده (۲) ملک الشعرای بهار - جلال آل احمد

۳) ذبیح الله صفا - مهدی حمیدی شیرازی (۴) علی اکبر دهخدا - جلال آل احمد

۸- از نظر اصول ویرایش زبان و نگارش معیار فارسی، کدام جمله درست است؟ (تهیه شده توسط ایران عرضه)

۱) فناوری می رود که چهره زمین را به کلی دگرگون کند

۲) روی دوست بی صداقت حساب نکن

۳) ممکن است فردا باران بیاید

۴) من روی این کار، خیلی وقت گذاشته ام

۹- از نظر آیین نگارش فارسی، کدام گزینه درست است؟

۱) آزمایشات (۲) کارخانجات (۳) احوال‌ها (۴) آشنائیت

۱۰- در عبارت «گو شمع میارید در این جمع که امشب / در مجلس ما ماه رخ دوست تمام است» چند صفت وجود دارد؟

۱) یک صفت (۲) دو صفت (۳) سه صفت (۴) چهار صفت

❖ فصل دوم: سوالات مهارت های هفتگانه کامپیوتر (ICDL)

۱- نام فایل در ویندوز حداکثر چند کاراکتر می‌تواند باشد؟ (منبع ایران عرضه)

(۱) ۱۱ (۲) ۲۵۶ (۳) ۸ (۴) محدودیت ندارد

❑ پاسخ سایت ایران عرضه: گزینه ۲ ⇐ نامگذاری پوشه ها و فایل ها در ویندوز تابع قوانینی است که یکی از آنها به این

صورت می‌باشد: حداکثر تعداد کاراکتر برای نامگذاری یک فایل در ویندوز، ۲۵۶ کاراکتر می‌باشد. همچنین در این نامگذاری نمیتوان از کاراکتر های خاصی همچون علامت سوال، ستاره، دو نقطه و ... استفاده کرد.

۲- حاصل فرمول $\min(\text{sum}(4; 3); \text{Max}(2; 3))$ چیست؟

(۱) ۱۰ (۲) ۷ (۳) ۳ (۴) ۲

۳- خطایی که زمانی اکسل متنی را در فرمول درست تشخیص ندهد ظاهر می‌شود چیست؟

(۱) #value (۲) ##### (۳) #name? (۴) #div/o!

۴- کدام یک از فرمول‌های زیر معدل اعداد درون سلول‌های c4 تا c را نمایش می‌دهد؟

(۱) $\text{= average}(c4 : c8)$ (۲) $\text{= sum}(c4 : c8)$

(۳) $\text{= average}(c4 ; c8)$ (۴) $\text{= sum}(c4 ; c8)$

۵- برای نشان دادن عدد به صورت کسر از کدام گزینه‌ها استفاده می‌شود؟

(۱) Currency (۲) Scientific (۳) Accounting (۴) Fraction

۶- در نمایش آیکن‌ها به طوریکه بتوان نمایش آیکن‌ها را به شکل کاشیکاری دید، از کدام گزینه زیر استفاده می‌شود؟

(۱) List (۲) Details (۳) Small Icon (۴) Tiles

۷- برای مرتب سازی براساس نوع و تاریخ ویرایش به ترتیب از راست به چپ کدام فرمان‌ها را باید از منوی میانبر انتخاب نمود؟

(۱) DATE MODIFIED -TYPE (۲) TYPE -DATE

(۳) TYPE -DATE MODIFIED (۴) DATE - MODIFIED

۸- در کدام منو فرمان هایی برای سازماندهی اطلاعات پنجره مثل کپی، انتقال، حذف و غیره وجود دارد؟

(۱) Open (۲) New Folder

(۳) Navigation pane (۴) Organize

۹- برای اینکه یک خانه را به چند خانه فرعی تقسیم کنیم از کدام گزینه استفاده می‌کنیم؟

(۱) Merge Cell (۲) Table Auto Format

(۳) Select Row (۴) Split Cells

۱۰- در پنجره Font کدام گزینه متن را سایه دار می‌کند؟

Engrave (۴)

Out Line (۳)

Shadow (۲)

Emboss (۱)



❖ فصل سوم: سوالات زبان انگلیسی

1- For instance, under the main entry amicable, two nouns and an adverb are also listed. 'for instance' means

- 1) generally 2) for example 3) extensively 4) put emphasis

۱- بعنوان مثال در زیر ورودی اصلی «amicable» دو اسم و یک قید نیز جای می گیرند. for instance (بعنوان مثال) به معنای است.

- (۱) عموماً (۲) برای مثال (۳) به صورت گسترده (۴) تأکید کردن

☑ پاسخ سایت ایران عرضه: گزینه ۲ ← (for instance و for exmple هر دو به معنای «بعنوان مثال» هستند)

2- It is important to acquaint yourself Your library as very first stage in your academic career

- 1) of 2) on 3) by 4) with

3- The books in the library are According to subjects

- 1) classify 2) classifies 3) classified 4) classification

4- I've tried those tablets and they haven't done me any

- 1) benefit 2) good 3) better 4) best

5- she had watched birds fly by throwing into the air.

- 1) yourself 2) herself 3) ourselves 4) themselves

6- I like to visit other countries but I find the of travel is too high.

- 1) money 2) cost 3) expenses 4) currency

7- they did only had my computer for three weeks when I had to have the hard drive.....

- 1) processed 2) restored 3) retakes 4) revived

8- Mathematics, physics, chemistry and biology are all , while painting is an art.

- 1) scientist 2) sciences 3) scientific 4) scientifically

9- They should select and arrange people for assigning duties and positions in society. 'Select' means

- 1) evade 2) choose 3) separate 4) eliminate

10- As..... of our employees can afford cars of..... Own they all have to rely on public transport.

- 1) few/them 2) most/our 3) none/their 4) some /his

❖ فصل چهارم: سوالات هوش و استعداد تحصیلی

۱- فرید بزرگتر از فرداد و فرناز، ولی فرید کوچکتر از فرزاد است. بنابراین به طور ختم می‌توان گفت:

(۱) فرداد بزرگتر از فرناز است. (۲) فرداد کوچکتر از فرناز است.

(۳) فرزاد بزرگتر از فرداد است. (۴) هر دو جواب (۱) و (۲) درست هستند.

❑ پاسخ سایت ایران عرضه: گزینه ۳ ← با توجه به اینکه در توضیحات مسئله در ارتباط با ترتیب سنی فرداد و فرناز چیزی نگفته شده است لذا نمیتوان در ارتباط با این دو فرد نظر حتمی داد که در اینصورت گزینه های ۱ و ۲ نادرست میباشند و در پی آن گزینه ۴ نیز نادرست میباشد لذا تنها گزینه درست گزینه ۳ میباشد.

۲- عکس یک عدد با $\frac{1}{4}$ آن برابر است. آن عدد کدام است؟ (منبع ایران عرضه)

(۱) ۲ (۲) -۲ (۳) ± ۲ (۴) ۴

۳- سرعت متوسط اتومبیلی ۷۲ کیلومتر در ساعت است. محمد هر چرخ آن تقریباً ۳ متر است. در مدت یک دقیقه حرکت، هر چرخ چند دور می‌چرخد؟

(۱) ۴۰۰ (۲) ۲۰۰ (۳) ۶۰۰ (۴) ۲۴۰

۴- اگر مساحت مربع به ضلع a ، $\frac{2}{5}$ برابر مساحت مربع به ضلع b باشد، بین a و b کدام رابطه برقرار است؟

(۱) $a = 0.5b$ (۲) $a = 0.5b$ (۳) $1.0a = 2.5b$ (۴) $2a = b\sqrt{1.0}$

۵- در یک دبیرستان ۱۵۰ نفری تعداد شاگردان کلاس اول ۳۵ نفر، تعداد شاگردان کلاس دوم ۲۵ نفر و تعداد شاگردان کلاس سوم ۱۰ درصد کل شاگردان است. تعداد شاگردان کلاس چهارم چند درصد کل شاگردان دبیرستان است؟

(۱) ۲۵ (۲) ۵۰ (۳) ۷۵ (۴) ۱۵

۶- به ۱۰ گرم آلیاژ مس و طلا، به نسبت ۱ به ۳، چند گرم مس بیافزاییم تا آلیاژ به نسبت ۲ به ۵ تغییر یابد؟

(۱) $0/3$ گرم (۲) $0/5$ گرم (۳) ۳ گرم (۴) ۲ گرم

۷- در مدرسه‌ای ۵۰٪ دانش آموزان دوچرخه دارند، ۳۰٪ دانش آموزانی که دوچرخه دارند اسکیت هم دارند، چند درصد هم اسکیت دارند و هم دوچرخه؟

(۱) ۱۵ درصد (۲) ۲۰ درصد (۳) ۲۵ درصد (۴) ۴۰ درصد

۸- چند درصد رمزهای سه رقمی از سه رقم زوج تشکیل شده‌اند؟ (تهیه شده توسط ایران عرضه)

(۱) ۱۲٪ (۲) $12/5$ ٪ (۳) ۳۰٪ (۴) ۱۰٪

۹- برای فرش کردن سالنی، ۷۵۰ عدد موزاییک 20×20 به کار می‌رود. اگر اضلاع موزاییک 25×25 در نظر گرفته شود، چند عدد موزاییک از آن نوع لازم است؟

(۱) ۴۲۰ (۲) ۴۵۰ (۳) ۴۸۰ (۴) ۵۰۰

۱۰- گیاهان هم حس دارند. در میان گیاهان، رتبه اول در حساسیت را گیاه (میموزا) دارد. این گیاه استوایی بر اثر تماس فیزیکی با برگ هایش، آنها را از وسط تا کرده و برگ های شانه ای خود را روی هم میگذارد. این نحوه عکس العمل، مکانیسمی دفاعی برای جلوگیری از صدمه در اثر وجود طوفان های شدید به حساب می آید. این نشان میدهد که گیاهان هم مانند جانوران، به محیط اطراف خود واکنش نشان میدهند.

کدام مورد رابطه دو بخش از متن را که زیر آنها خط کشیده شده است را به منطقی ترین وجه توصیف میکند؟

(۱) اولی، ادله ای بر تائید ادعای متن است و دومی، بیان دیگری از ادعاست

(۲) اولی، مثالی در تائید نتیجه گیری متن و دومی، قضاوتی در باب آن نتیجه گیری است

(۳) اولی، نتیجه گیری متن است و دومی، ادله ای در اثبات آن

(۴) اولی و دومی، هر دو ادله ای هستند که ادعای متن را تقویت میکند



❖ فصل پنجم: سوالات GMAT

۱- کشور «الف» برای مدتی طولانی در زمینه گندم و گوشت تا حدی خودکفا بوده است. با این وجود، از آنجا که درآمد سرانه در این کشور به سمت میزان متوسط جهانی رو به افزایش است. مصرف سرانه گوشت هم به سمت میزان متوسط جهانی رو به رشد گذاشته است و برای تولید یک کیلو گوشت، چندین کیلو گندم لازم است. در نتیجه، چون درآمد سرانه مردم رو به افزایش است در حالیکه تولید داخلی گندم افزایش نمی یابد، کشور «الف» به زودی مجبور خواهد بود یا گندم یا گوشت و یا هر دو را وارد کند.

کدامیک از موارد زیر، فرضیه ای است که استدلال فوق، بر آن مبتنی است؟

(۱) آن دسته از مردم کشور «الف» که مصرف گوشت خود را افزایش می دهند، به طور چشمگیری مصرف گندم را کاهش نخواهند داد.

(۲) درآمد سرانه تولیدکنندگان گوشت در کشور «الف» نسبت به درآمد سرانه تولیدکنندگان گندم آن کشور، با سرعت بیشتری در حال افزایش است.

(۳) مصرف سرانه گوشت در کشور «الف»، در تمام سطوح درآمدی، تقریباً به میزان یکسانی در حال افزایش است.

(۴) واردات گندم یا گوشت، باعث نخواهد شد که درصد بسیار بالاتری از درآمد مردم، صرف غذا شود.

☑ پاسخ سایت ایران عرضه: گزینه ۱ ← نتیجه گیری نهایی متن نوشته شده بر این اساس میباشد که خانواده هایی که مصرف گوشت خود را افزایش داده اند مصرف گندم خود را کاهش نداده اند و در نتیجه نه تنها مصرف گندم کاهش پیدا نکرده است، مصرف گندم در پروسه تولید گوشت نیز افزایش یافته است، پس با دقت در اینکه تولید گندم تغییری نکرده است چندین حالت به وجود می آید که عبارتند از کاهش تولید گوشت و واردات آن، واردات گندم مورد نیاز برای تولید گوشت و یا واردات هر دو به نسبت مورد نیاز.

۲- با افزایش ۸۰ درصدی وزن A، مجموع وزن A و B، ۲۰ درصد افزایش می یابد. کدام مورد زیر، صحیح است؟

(۱) به طور قطع نمی توان چیزی گفت

(۲) وزن B، سه برابر وزن A است

(۳) وزن A، ۱/۵ برابر وزن B است

(۴) مجموع وزن های A و B، ۴/۵ برابر وزن A است

۳- بین اعداد زیر، ارتباط خاصی برقرار است. به جای علامت سوال، کدام عدد باید قرار گیرد؟

2 12 60 240 720 ?

(۴) ۱۹۲۰

(۳) ۱۴۴۰

(۲) ۱۴۰۰

(۱) ۹۶۰

۴- هما چند مرتبه در آزمون زبان شرکت کرده است. نمره وی در هر آزمون، از دو برابر نمره آزمون قبلی اش، ۲ نمره کمتر است. اگر وی سه بار آزمون داده باشد و در آزمون دوم، نمره اش ۶۰ درصد افزایش پیدا کرده باشد، در آزمون سوم نسبت به آزمون دوم، نمره اش چند درصد افزایش یافته است؟

(۱) ۵۷ (۲) ۶۰ (۳) ۶۶ (۴) ۷۵

۵- مجموع سن اعضای یک باشگاه ورزشی ۱۸۷ سال و شش ماه است. کوچکترین عضو این باشگاه ۹ سال دارد. اگر افراد این باشگاه به طور متوالی، اختلاف سنی ۶ ماه داشته باشند، تعداد افراد این باشگاه چقدر است؟ (منبع ایران عرضه)

(۱) ۲۵ (۲) ۱۵ (۳) ۵۰ (۴) نمیتوان تعیین کرد

۶- گاری یک دست فروش تحمل حمل حداکثر ۱۲ کیسه آرد یا حداکثر ۲۱ کیسه گندم و یا حداکثر ۳۰ کیسه برنج را دارد. این دستفروش علاوه بر ۷ کیسه گندم و ۷ کیسه برنج، حداکثر چند کیسه آرد میتواند به بار گاری اضافه و حمل کند؟

(۱) ۴ (۲) ۵ (۳) ۶ (۴) ۷

** با توجه به اطلاعات داده شده به سوالات ۷ الی ۱۱ پاسخ دهید.

در یک مسابقه شطرنج، چهار شطرنج باز به اسامی A، B، C و D هر کدام دو مرتبه با دیگر حریفان مسابقه می دهند همه مسابقات یک برنده داشته است. از نتایج مسابقات، فقط اطلاعات زیر در دست است:

تعداد بردهای A دو برابر تعداد باخت هایش بوده است

نه C و نه D موفق نشده اند هیچ کدام از حریفهای خود را هر دو بار ببرند.

B نه به C باخته است و نه به D

با توجه به شروط دوم و سوم، فرم اولیه جدول بازی ها به شکل مقابل میباشد که در آن حرف موجود مربع نشان دهنده

برنده بازی است

	A	B	C	D
A		?	?	?
B	?		B	B
C	?	B		D
D	?	B	C	

	A	B	C	D
A		?	?	?
B	?		B	B
C	?	B		C
D	?	B	D	

۷- حداکثر تعداد بردهای C، کدام می تواند باشد؟

(۱) ۱ (۲) ۲ (۳) ۳ (۴) ۴

۸- کدام یک از موارد زیر، صحیح میباشد؟

(۱) B و C میتوانند هر کدام یک بار A را برده باشند.

(۲) تعداد بردهای A و B نمی تواند با هم برابر باشد

(۳) C می تواند در همه مسابقات خود بازنده باشد

(۴) D می تواند فقط در سه مسابقه بازنده باشد

۹- کدام دو نفر از افراد زیر، از دو مسابقه ای که مقابل هم انجام داده اند، لزوما یکی را برده و دیگری را باختند ؟

C و A (۴)

D و C (۳)

D و B (۲)

B و A (۱)

۱۰- اگر D فقط یک برد کسب کرده باشد، A مقابل چه کسی (یا کسانی)، هر دو مسابقه خود را لزوماً برده است؟

D و B (۴)

D و C (۳)

D فقط (۲)

B فقط (۱)



❖ فصل ششم: سوالات مفاهیم پولی، مالی و خدمات بانکی تالیف ایران عرضه

◀ بخش اول: سوالات بانکداری داخلی

۱- بانکداری در جهان از چه زمانی آغاز شد؟

(۱) از زمانی که تجارت کالا به رواج یافت

(۳) از زمانی که انسان به تجارت روی آورد.

(۴) از زمانی که تمدن انسانی روی کار آمد

❑ پاسخ سایت ایران عرضه: گزینه ۲ ← بانکداری در جهان از زمانی آغاز گردید که پول به عنوان وسیله داد و ستد و مبادله

کالا مورد استفاده قرار گرفت. خطرات ناشی از نقل و انتقال پول وصول مطالبات از مشتریان دور و نزدیک و سپردن وجوه نقد به جای مطمئن از نخستین علل ایجاد بانک و بانکداری به شمار می آید.

۲- بانکداری در جهان به چند دوره تقسیم می شود؟ (منبع ایران عرضه)

(۱) سه دوره (۲) دو دوره (۳) قابل تقسیم نیست (۴) چهار دوره

۳- نخستین تجربه بانکی به شکل جدید آن در..... و توسط.....تحقق یافت.

(۱) در کشور آلمان و توسط جان کالون (۲) در کشور فرانسه توسط پروتستان ها

(۳) در ایتالیا توسط جان لائو (۴) در فرانسه توسط جان لائو

۴- نخستین بانک ایرانی کدام بانک است و در چه سالی تاسیس شد؟

(۱) بانک ملی / ۱۳۰۶ (۲) بانک سپه / ۱۳۰۶

(۳) بانک ملی / ۱۳۰۴ (۴) بانک سپه / ۱۳۰۴

۵- کدام یک از گزینه های زیر برای تعریف بانک صحیح است؟

(۱) بانک سازمان اقتصادی / مالی / خدماتی است.

(۲) بانک با هدف کسب سود و ارائه خدمات انجام وظیف می نماید.

(۳) بانک با جذب منابع سرگردان برای تحقق اهداف اقتصادی کشور انجام وظیفه می کند

(۴) همه موارد

۶- منظور از سپرده کم هزینه دیداری چیست؟

(۱) حساب قرض الحسنه جاری (۲) حساب قرض الحسنه پس انداز

(۳) سپرده کوتاه مدت عادی (۴) هیچکدام

۷- کدام گزینه تعریف ارسطو از پول را بیان می کند؟

(۱) پول کالایی است که واسطه معاملات و معیار و مقیاس ارزشها می باشد

(۲) پول از آنجا حائز اهمیت است که بین حال و آینده پلی برقرار می کند

۳) پول واسطه مبادله، واحد ارزش و ذخیره ارزش هاست

۴) پول واحد رسمی و قانونی کشور است، که وسیله مبادله و مورد پذیرش عامه است.

۸- بانک مرکزی حد نگهداری وجوه نقد را چند درصد اعلام نموده است؟

۱) حداقل ۳ درصد (۲) حداکثر ۳ درصد (۳) حداقل ۵ درصد (۴) حداکثر ۵ درصد

۹- نرخ جایزه سپرده قانونی چگونه به دست می آید؟

۱) تقسیم مبلغ جایزه سپرده قانونی به کل سپرده قانونی نزد بانک مرکزی

۲) حاصل ضرب مبلغ جازه سپرده قانونی به کل سپرده قانونی نزد بانک مرکزی

۳) تقسیم کل سپرده قانونی به مبلغ جایزه سپرده

۴) هیچکدام

۱۰- کدام گزینه درباره پول کالایی درست است؟

۱) تعیین ارزش کالا بر اساس قبول واحد معینی که مورد پذیرش طرفین باشد بوده است.

۲) تعیین خریدار و فروشنده که هر دو نیاز به عرضه کالای طرف مقابل را داشته باشد کار مشکلی نبود.

۳) در جوامع نخستین تحصیل انواع کالاهای تولید شده صرفاً از طریق تعویض و مبادله کالا بوده است.

۴) هیچکدام.



بخش دوم: سوالات دانش علوم بانکی

۱- در چکی که محل صدور چک با محل پرداخت وجه آن یکی باشد در قانون تجارت بعد مسافت از محل صدور چک تا محل پرداخت آن چه مدت زمان می باشد؟

- (۱) ده روز از تاریخ صدور
(۲) ۱۵ روز از تاریخ صدور
(۳) یک ماه از تاریخ صدور
(۴) ۴۵ روز از تاریخ صدور

پاسخ سایت ایران عرضه: گزینه ۲ ← اگر چک در همان مکانی که صادر شده است باید تادیه گردد دارنده چک باید ظرف ۱۵ روز از تاریخ صدور و جه آن را مطالبه کند.

۲- اگر محل صدور چک با محل تادیه یکی نباشد ظرف از تاریخ صدور مطالبه می شود.

- (۱) ۱۰ روز
(۲) پانزده روز
(۳) ۲۵ روز
(۴) ۴۵ روز

۳- دارنده چک بی محل می تواند با انتخاب کدام یک از تو گزینه های زیر وجه را مورد مطالبه قرار دهد؟

- (۱) صدور اجرائیه از طریق اجرای ثبت
(۲) مراجعه به ظهرنویسان در مدت قانونی
(۳) طرح شکایت کیفری به دادسرا و تسلیم دادخواست مطالبه وجه
(۴) همه موارد

۴- در برابر صدور چک بلامحل کدام یک از ضمانت های اجرایی تعبیه گردیده است؟

- (۱) حبس تعزیری از ۶ ماه تا دو سال
(۲) بر حسب مورد جزای نقدی معادل یک چهارم وجه چک یا یک چهارم کسر موجودی
(۳) مجازات حبس پنج تا شش سال
(۴) جزای نقدی معادل مبلغ چک

۵- مرور زمان شکایت کیفری علیه چک بلامحل چه مدت زمان می باشد؟

- (۱) یک سال از تاریخ صدور چک
(۲) شش ماه از تاریخ مراجعه به بانک
(۳) شش ماه از تاریخ صدور چک
(۴) دو سال از تاریخ صدور چک

۶- کدام یک از گزینه های زیر در مورد چک بلامحل صدق نمی کند؟

- (۱) دارنده چک موظف است ظرف مدت ۶ ماه برای وصول آن به بانک مراجعه کند وگرنه حق شکایت کیفری نخواهد داشت.
(۲) کسی که چک پس از برگشت از بانک به او منتقل گردیده حق شکایت کیفری نخواهد داشت مگر آنکه انتقال قهری باشد.
(۳) کسی که چک پس از برگشت از بانک به او منتقل شده نیز حق شکایت کیفری دارد.
(۴) هرگاه بعد از شکایت کیفری شاکی چک را به دیگری انتقال دهد یا حقوق خود را نسبت به چک به دیگری واگذار نماید تعقیب کیفری موقوف خواهد شد.

۷- بانک حساب جاری اشخاص را که اقدام به صدور یک فقره چک بلامحل نمایند و بنا به تقاضای دارنده چک منجر به صدور گواهینامه عدم پرداخت به علت فقدان موجودی شود تحت عنوان حساب تلقی می کند.

- (۱) حساب جاری درگیر
(۲) حساب مسدود
(۳) حساب بی اعتبار
(۴) حساب بی محل

۸- کدام یک از شرایط رفع سوء اثر از سوابق چک های برگشتی می باشد؟

- (۱) حساب جاری صادر کننده توسط بانک پرداخت شده باشد.
(۲) لاشه چک ارائه شود.

(۳) رضایتنامه دارنده چک که مشخصات آن با مندرجات موجود در گواهینامه عدم پرداخت چک مطابقت دارد اخذ شود.
(۴) همه موارد

۹- چکی است که در موقع گشایش حساب جاری بر اساس تقاضای کتبی مشتری در اختیار وی قرار می گیرد تا با هر برگ آن از حساب خود برداشت یا به دیگری منتقل نماید.

- (۱) چک گواهی شده (۲) چک عمومی (۳) چک عادی (۴) چک مسافرتی

۱۰- چکی که وجود محل آن و چه چک بنا به درخواست دارنده حساب برای مدت معین که معمولاً برای ارائه چک لازم است از طرف بانک تایید شده باشد و بانک معادل مبلغ آن چک را از حساب مشتری برداشت یا در همان حساب تا زمان ارائه چک برای دریافت وجه مسدود می نماید به اصطلاح می باشد.

- (۱) چه عادی (۲) چک گواهی شده (۳) چک عمومی (۴) چک مسافرتی

بخش سوم: سوالات اصول بانکداری

۱- کدام گزینه از جمله اختلافات بسیار مهم بین عملیات بانکداری رم قدیم با عملیات بانکداری عصر حاضر میباشد؟

(۱) در بانکداری قدیم عین مسکوکات فلزی رد و بدل میشد ولی در بانکداری جدید اعتبارنامه ها و مقیاس های ارزش معرف پول استفاده میشود.

(۲) در بانکداری جدید برخلاف بانکداری قدیم عملیات بصورت سیستمی انجام میگردد و درصد خطای کمتری دارد.

(۳) در عملیات بانکداری قدیم تعداد حسابهایی که هر بانک مجاز است افتتاح نماید محدود تر از تعداد حسابها در بانکداری جدید بود.

(۴) در بانکداری قدیم نگهداری و نقل و انتقال اسناد بصورت ارزان و سهل و ساده انجام می شد.

پاسخ سایت ایران عرضه: گزینه ۱ ← عملیات بانکی بانکداران رومی از بیشتر جهات شبیه به عملیات بانکی زمان حاضر بود و شامل افتتاح حساب جاری و مدتدار به نفع افراد و پرداخت بهره به سپرده های مدتدار - صدور بروات تجارتي - دادن قرضه های بانکی اعم از مصرفی و تجارتي با بهره متفاوت - رهن و حتی صدور اعتبارنامه تجارتي (Letter of Credit) میشد. یکی از موارد اختلاف بسیار مهمی که میتوان درباره عملیات بانکداری رم قدیم با سیستم عملیات بانکی عصر حاضر ذکر کرد این است که قسمت اعظم عملیات بانکهای امروز با استفاده از مقیاسهای ارزش (معرف پول و واحد حساب) انجام میشود در حالی که کلیه عملیات در سیستم بانکداری رم قدیم بر اساس رد و بدل کردن عین پول (مسکوکات فلزی) انجام می شده است.

۲- کدام بانک قدیمی در ایران با سرمایه اولیه یک میلیون لیره و خرید تاسیسات بانک جدید شرق در ایران شروع به کار کرد؟

(۱) بانک ملی (۲) بانک تجارت (۳) بانک شاهی (۴) بانک ایران

۳- بنیاد پهلوی سابق و بانک توسعه صنعتی و معدنی ایران با راهنمایی بانک مرکزی در سال ۱۳۵۴ اقدام به مشارکت در امور کدام یک از موسسات بانکی زیر نمودند؟

(۱) بانک ایرانشهر (۲) بانک بیمه ایران (۳) بانک عمران (۴) بانک کار

۴- گزینه درست را در مورد بانک داریوش بیابید.

(۱) بانک داریوش به تاریخ سال ۱۳۵۲ هجری شمسی تاسیس شد

(۲) طبق اساسنامه شورای پول و اعتبار این بانک بصورت شرکت سهامی خاص اداره میشود

(۳) در تاسیس بانک داریوش دو موسسه بانک توسعه صنعتی و معدنی ایران و بانک کار مشارکت داشتند

(۴) موضوع بانک داریوش توسعه و تشویق و تقویت موسسات عمومی اعم از کارخانجات و موسسات صنعتی و معدنی

۵- هدف اصلی در بانکداری کدام اصل است؟

(۱) اصل منفعت (۲) اصل نقدینگی (۳) اصل امنیت (۴) اصل نظارت

۶- شرکت سهامی خاص چه نوع شرکتی است؟

(۱) شرکتی است که موسسین آن قسمتی از سرمایه های شرکت را از طریق فروش سهام به مردم تامین میکند.

۲) شرکتی است که تمام سرمایه آن در موقع تاسیس منحصرًا توسط موسسین تامین گردیده است

۳) شرکتی است که هر یک از شرکا بدون اینکه سرمایه به سهام تقسیم شده باشد، فقط تا میزان سرمایه خود در شرکت مسئول تعهدات میباشد.

۴) شرکتی است که تحت اسم مخصوصی برای امور تجاری بین دو یا چند نفر با مسئولیت تضامنی تشکیل میشود

۷- دو معیار مهم ارزیابی سودآوری بانک چیست؟

۱) بازده دارایی (۲) کارایی عملیاتی (۳) بازده سرمایه (۴) گزینه ۱ و ۳

۸- تعریف حجم پول در گردش چیست؟ (منبع سوالات سایت ایران عرضه)

۱) مجموع قدرت خرید یا وسایل پرداخت مورد قبول جامعه که در یک واحد زمان در اختیار مردم قرار دارد.

۲) سپرده هایی که به محض مطالبه از بانک و بدون اطلاع قبلی قابل پرداخت بوده و عینا مانند وجه نقد قابلیت نقل و انتقال داشته باشد.

۳) سپرده هایی که براساس توافق بین بانک و مشتری در اختیار بانک قرار گرفته و باز پرداخت آن از طرف بانک از سررسید به مشتری باشد.

۴) دارایی هایی است که به آسانی قابل نقد شدن است و به سهولت و سرعت میتوان آنها را به پول نقد تبدیل نمود.

۹- منظور از حساب جاری درگیر چیست؟

۱) نام دیگر سپرده های دیداری است

۲) حساب جاری افراد دارای دسته چک که به اندازه مبلغ چک تا پس از ۱۰ روز از تاریخ اجرای چک در آن بلوکه و غیر قابل برداشت میشود

۳) حساب جاری افراد صادر کننده چک بلامحل که بنابر تقاضای دارنده چک منجر به صدور گواهینامه عدم پرداخت به علت فقدان موجودی شده

۴) نوعی حساب جاری که به عنوان یک پشتوانه مالی برای حفظ حجم پول در گردش و پرداخت سپرده های دیداری و غیر دیداری استفاده شود

۱۰- زمانی که دارنده حساب جاری دسته چک خود را همراه ندارد و قصد استفاده از موجودی حساب خود را دارد تقاضای چه

نوع چکی مینماید؟

۱) چک امنیوس (۲) چک بسته (۳) چک بانکی (۴) چک گواهی شده

بخش چهارم: سوالات بازارهای مالی و سرمایه

۱- بازار سرمایه چگونه راه توسعه و ایجاد شغل و افزایش سطح رفاه عمومی را هموار می کند؟

- (۱) با هدایت سرمایه و پس انداز مردم
(۲) با هدایت نیروی کار و سرمایه مردم
(۳) با سرمایه مردم و هدایت منابع ملی
(۴) با هدایت نیروی کار و منابع ملی

پاسخ سایت ایران عرضه: گزینه ۱ ← بازار پول و سرمایه همواره به شکل سازمان یافته تری در اقتصاد کشورها حضور دارد و نقش آن، در زمینه توسعه از اهمیت بیشتری برخوردار می شود. بازار سرمایه با هدایت سرمایه ها و پس انداز مردم راه توسعه و ایجاد شغل و افزایش سطح رفاه عمومی را هموار می کند.

۲- عبارت زیر درباره کدام یک از فرضیه های اصلی مطالعات درباره بازار مالی (سرمایه و پس انداز) است؟

"یک رابطه دو طرفه بین توسعه بازارهای مالی و عملکرد اقتصادی وجود دارد."

- (۱) عرضه - هدایت (۲) بازخور (۳) واکنش - تقاضا (۴) همه موارد

۳- توسعه و اثر آن بر یکی از مهم ترین عوامل تأثیرگذار در شکل گیری انواع پس اندازها و هدایت آن به سمت سرمایه گذاری توسعه بازار مالی است.

- (۱) پس انداز / بازار مالی (۲) بازار مالی / بازار اقتصادی
(۳) بازار مالی / رشد اقتصادی (۴) بازار اقتصادی / بازار مالی

۴- عواملی که باعث شده است که مبانی نظری پازل رشد اقتصادی - توسعه بازارهای مالی در بخش مالی ایران با اما و اگرهای متعدد روبه رو باشد، چیست؟

- (۱) نتیجه گیری شرایط خاص بازارهای مالی ایران
(۲) ساختار مالی مبتنی بر بانک و حضور دولت در اقتصاد
(۳) اقتصاد تک محصولی وابسته به درآمدهای نفتی
(۴) همه موارد

۵- کدام گزینه از ویژگی های بازار پول نیست؟

- (۱) سررسید ابزارهای رایج در آن بلندمدت می باشد.
(۲) درجه نقد شوندگی ابزارهای آن بالا می باشد.
(۳) گردش پول نقدینگی در این بازار سریع است.
(۴) ریسک سوخت اصل سرمایه در آن پایین است.

۶- کدام گزینه از خدمات نهادهای پولی است که میتوانند زمینه مکمل بودن دو بازار پول و سرمایه را فراهم کنند؟

(۱) کمک به بانک های تجاری به این منظور که آن ها مجبور به پرداخت وام های بلندمدت نباشند و نقدینگی های خود را در معرض ریسک بیشتری قرار ندهند.

بخش پنجم: سوالات آشنایی با خدمات الکترونیکی بانکی

۱- کدام تعریف برای بانکداری الکترونیک کاملتر است؟

- (۱) انجام عملیات بانکی با استفاده از اینترنت
- (۲) انجام عملیات الکترونیک با بستر الکترونیکی بعد از گسترش تجارت الکترونیکی
- (۳) نوعی تجارت الکترونیک که ارتباطی به خدمات مالی ندارد
- (۴) همه موارد

☑ پاسخ سایت ایران عرضه: گزینه ۲ ← انجام عملیات الکترونیک با بستر الکترونیکی بعد از گسترش تجارت الکترونیکی را به اصطلاح بانکداری الکترونیک می گویند.

۲- کدام یک از موارد زیر از شاخه های بانکداری الکترونیک میباشد؟

- (۱) بیمه
 - (۲) خرید سهام به صورت الکترونیکی
 - (۳) فروش سهام به صورت الکترونیکی
 - (۴) همه موارد
- ۳- کلیه خدماتی که از طریق اینترنت با استفاده از محصولات و خدمات مرتبط آن سودآوری ایجاد می کنند را به اصطلاح..... می نامند. (منبع ایران عرضه)

(۱) بانکداری اینترنتی (۲) اقتصاد اینترنتی (۳) اقتصاد دیجیتالی (۴) گزینه ۲ و ۴

۴- کدام یک از فعالیتهای زیر مربوط به کسب و کارهای الکترونیک نمیشود؟

- (۱) مدیریت روابط با مشتری
 - (۲) مدیریت زنجیره تامین
 - (۳) خرید تجهیزات دیجیتال از خرده فروشی
 - (۴) برنامه ریزی منابع شرکت
- ۵-..... عمده ترین دستاوردهای به کارگیری فناوری ارتباطات در زمینه های اقتصادی است.
- (۱) تجارت الکترونیک (۲) تجارت هوشمند (۳) مدیریت رایانه (۴) افزایش ارزش سهام

۶- همه موارد زیر از ویژگی های تجارت الکترونیک می باشد به جز.....

- (۱) جهانی شدن تجارت
- (۲) حذف محدودیت های زمانی و مکانی
- (۳) کاهش چشمگیر هزینه های معاملاتی
- (۴) افزایش هزینه های معاملاتی

۷- دوران طفولیت تجارت الکترونیکی به چه زمانی برمیگردد؟

(۱) سال ۱۹۵۵ (۲) ۱۹۷۸ (۳) ۱۹۹۰ (۴) بعد از دهه های ۷۰ و ۸۰

۸- کدام یک از گزینه های زیر مربوط به عصر طلایی در تجارت الکترونیکی نمی شود؟

- (۱) این دوره بین سال های ۱۹۵۵ تا ۱۹۹۹ شکل گرفت.
- (۲) از دیگر اتفاقات مهم در این سال بنیان گذاری آمازون دات کام بود.
- (۳) در سال ۱۹۹۶ تراکنش تجارت الکترونیکی در ایالات متحده بیش از ۷۷۰ میلیون دلار سود داشت.

۴) تجارت الکترونیک با توسعه تبادل داده الکترونیکی EDI که قالبی استاندارد برای تبادل اسناد تجاری از یک رایانه به رایانه دیگر است ممکن شد.

۹- ISOC چه سازمانی بود و در چه سالی تاسیس شد؟

- ۱) سازمانی که به منظور تهیه تدوین و نظارت بر استانداردهای اینترنت در سال ۱۹۸۰ تاسیس شد.
 - ۲) سازمانی که به منظور تهیه و تدوین و نظارت و استانداردهای اینترنت که در سال ۱۹۹۲ تاسیس شد.
 - ۳) سازمانی که به منظور تبلیغات اینترنتی که در سال ۱۹۹۹ تاسیس شد.
 - ۴) یک جامعه اینترنتی که به منظور نظارت بر تراکنش های تجارت الکترونیکی در سال ۱۹۹۸ تاسیس شد.
- ۱۰- حباب دات کام اصطلاحی برای تعریف..... می باشد و در سال... ایجاد شد.

۱) تجارت الکترونیک و افزایش ارزش شرکت های اینترنتی، ۱۹۹۰

۲) تجارت الکترونیک و افزایش ارزش شرکت های اینترنتی ۲۰۰۰

۳) تغییر بازار سهام سال ۲۰۰۱

۴) تغییر بازار سهام ۱۹۹۹



❖ فصل هفتم: سوالات آزمون استخدامی بانک سینا دی ۱۴۰۳

◀ مفاهیم پولی، مالی و خدمات بانکی

۱- چک وسیله ای برای و نباید به عنوان وسیله استفاده شود.

(۱) پرداخت-اعتبار (۲) اعتبار-پرداخت

(۳) پرداخت-پرداخت (۴) اعتبار-اعتبار

❑ پاسخ سایت ایران عرضه: گزینه ۲ ← چک معمولاً ابزاری برای پرداخت است، یعنی برای انتقال پول یا تسویه حساب استفاده می‌شود. از طرفی، چک به خودی خود نباید به عنوان ابزار اعتبار (مثلاً ضمانت یا چیزی که صرفاً نشان‌دهنده توانایی مالی باشد بدون قصد پرداخت) استفاده شود، مگر در شرایط خاص که قانون اجازه دهد.

۲- در چه بازاری رابطه سکه و طلا، سکه و نقره براساس ارزش واقعی آن است؟ (iranarze)

(۱) بازار رسمی (۲) بازار غیررسمی (۳) بازار کالا (۴) سیستم بانکی

۳- اگر ارزش یا هزینه کالایی کمتر از ارزش آن به عنوان پول باشد، به چنین پولی، ... گویند.

(۱) بدون پشتوانه (۲) قابل تبدیل (۳) غیر قابل تبدیل (۴) گزینه ۲ و ۳

۴- با افزایش نرخ بهره به ۱۷ درصد، بازده انتظاری سرمایه‌گذاری ۱۴ درصد چه تغییری می‌کند؟

(۱) افزایش میابد (۲) کاهش میابد (۳) بدون تغییر (۴) نمیتوان گفت

۵- عکس العمل مردم در دام نقدینگی چگونه است؟

(۱) همه پول به دارایی سرمایه ای تبدیل میشود.

(۲) همه دارایی نقد نگهداری میشود.

(۳) هیچکس تمایلی به قرض دادن و خرید اوراق ندارد.

(۴) گزینه ۲ و ۳

۶- پایه پولی، مجموع تعهدات بانک مرکزی به می باشد.

(۱) دولت (۲) عوامل اقتصادی

(۳) بخش خارجی اقتصاد (۴) بانک تجاری

۷- عکس نرخ ذخیره قانونی چیست؟

(۱) نسبت ذخیره قانونی (۲) ضریب افزایش سپرده

(۳) حجم پول (۴) ذخیره افزایشی

۸- نیاز شخص در هر بخش و با اشخاص حقیقی و حقوقی جز کدام عقد است؟

(۱) مساقات (۲) مزارعه (۳) مضاربه (۴) قرض الحسنه

۹- بالاترین مقام اجرایی و اداری در هر بانک چه کسی است؟

- (۱) مدیر عامل
(۲) بازرس قانون
(۳) رییس هیئت مدیره
(۴) رئیس بانک

۱۰- هدف اصلی بانک مرکزی از متولی ذخایر ملی بودن چیست؟

- (۱) ثبات قیمت ها
(۲) حداکثر سازی سود
(۳) ثبات نرخ ارز
(۴) افزایش رفاه عمومی

۱۱- درصدی از سپرده بانک ها که به دستور بانک مرکزی در بانک مرکزی ذخیره میشود چه نام دارد؟

- (۱) ضریب افزایش سپرده
(۲) ذخیره ارزی
(۳) ذخیره قانونی
(۴) ذخیره احتیاطی

۱۲- چه سیاستی اشتغال بخش دولتی را بیشتر از سایر گزینه ها افزایش میدهد؟ ایران عرضه

- (۱) مالی انقباضی
(۲) پولی انقباضی
(۳) مالی انبساطی
(۴) پولی انبساطی

۱۳- سیاست پول در کدام گزینه باعث افزایش سرمایه گذاری بخش خصوصی میشود؟

- (۱) کاهش نرخ بهره
(۲) افزایش نرخ بهره
(۳) کاهش درآمد
(۴) افزایش درآمد

۱۴- سرمایه گذاری با نرخ بهره رابطه و با پس انداز با نرخ بهره رابطه دارد.

- (۱) معکوس - معکوس
(۲) معکوس - مستقیم
(۳) مستقیم - مستقیم
(۴) مستقیم - معکوس

۱۵- علت تورم در سال جنگ تحمیلی چیست؟

- (۱) افزایش صادرات
(۲) کاهش واردات
(۳) افزایش قیمت جهانی نفت
(۴) کسری بودجه دولت

۱۶- کدام گزینه دارایی بانک مرکزی نیست؟

- (۱) بدهی بانک ها
(۲) مسکوکات و اسکناس در دست مردم
(۳) دارایی خارجی
(۴) بدهی بخش دولتی

۱۷- افزایش عرضه پول رابطه با پایه پولی و با ضریب عرضه پول دارد.

- (۱) معکوس - مستقیم
(۲) مستقیم - معکوس
(۳) مستقیم - مستقیم
(۴) معکوس - معکوس

◀ مهارت های هفت گانه کامپیوتر (ICDL)

۱۸- کوچک ترین واحد اطلاعات در رایانه چه نامیده می شود؟

(۱) فیلد (۲) کاراکتر (۳) بیت (۴) بایت

۱۹- کلیدهای کنترلی ذخیره سازی در سیستم عامل ویندوز کدام است؟

(۱) Shift+S (۲) Alt+S (۳) Ctrl+S (۴) Del+S

۲۰- Motherboard چیست؟

(۱) صفحه اصلی ویندوز (۲) جعبه نصب کارت گرافیکی

(۳) محل اتصال مانیتور (۴) برد اصلی کامپیوتر

۲۱- با انتخاب کدام گزینه در Excel اندازه متن طوری تغییر می کند که حتماً در یک خانه جا شود؟

(۱) Wrap Text (۲) Shirnk to Fit (۳) Merge Cell (۴) Split Cell

۲۲- در مورد ایجاد شماره صفحه کدام گزینه درست نیست؟ (ا یر ا ن ع ر ض ه)

(۱) شماره صفحه می تواند هم در بالا و هم در پایین قرار گیرد.

(۲) شماره صفحه می تواند طرف چپ یا راست باشد.

(۳) شماره صفحه باید از یک شروع شود.

(۴) فرمت شماره را می توان تغییر داد.

۲۳- تنظیم فاصله بین سطور پاراگرافها از طریق کدام زیر منو امکان پذیر است؟

(۱) Spacing (۲) Line Spacing (۳) Special (۴) Direction

۲۴- پسوند txt مربوط به فایل های و پسوند Wav مربوط به فایل های است.

(۱) اجرایی، صوتی (۲) متنی، تصویری

(۳) متنی، صوتی (۴) اجرایی، تصویری

۲۵- چگونه می توان با کمک موس پنجره را جابجا نمود؟

(۱) با کشیدن نوار عنوان پنجره (۲) با کشیدن نوار منوی پنجره

(۳) کوچک نمودن پنجره (۴) بزرگ نمودن پنجره

۲۶- کدام مورد یک برنامه مرورگر Web نیست؟

(۱) Firefox (۲) Opera (۳) Netscape (۴) Firewall

۲۷- توسط چه تابعی از Excel می توان تعداد خانه های محتوی داده های عددی را به دست آورد؟

(۱) Average (۲) Sum (۳) Count (۴) Max

۲۸- برای اینکه در زمان Disconnect بتوانیم صفحات سایت های اینترنتی را که قبلاً مشاهده نموده ایم ببینیم از کدام مورد

استفاده می کنیم؟

۲) فعال کردن Favorite

۱) فعال کردن History

۴) هیچکدام

۳) فعال کردن Work Offline

۲۹- آدرس صفحات وب که در آخرین مرور گر وب مشاهده شده‌اند در کجا قرار می‌گیرد؟

۱) Feeds (۱) Favorite (۲) Home (۳) History (۴)

۳۰- به برنامه ها و دستور العمل های که جهت ارتباط با کامپیوتر به کار میرود چه میگویند؟

۱) سیستم ارتباطی (۱) نرم افزار ورودی (۲) نرم افزار (۳) سخت افزار (۴)

۳۱- قلم نور و موس در کامپیوتر به ترتیب چه نوع تجهیزاتی هستند؟

۱) ورودی - ورودی (۱) خروجی - خروجی (۲)

۳) ورودی - خروجی (۳) خروجی - ورودی (۴)

۳۲- به کدام دکمه های ترکیبی در PDF به آخرین صفحه میتوان رفت؟ (متعلق به سایت ایران عرضه)

۱) ctrl + end (۱) ctrl + Home (۲) shift + end (۳) shift + Home (۴)

◀ زبان انگلیسی عمومی

33- A few days after the exam, I received a letter..... me a job.

1) offering 2) to offer 3) offered 4) that was offered

34- A friend of mine phoned invite me to a party.

1) so that 2) so as 3) in order that 4) to

35- Many working women on relatives to help take care of their children.

1) focus 2) instruct 3) rely 4) support

36- If pollution continues to increase at the present rate, the amount of heat in the atmosphere will increase too.

1) radiated 2) trapped 3) reduced 4) recycled

37- Heat and electricity can travel through like iron and gold.

1) instruments 2) metals 3) layers 4) rocks

38- When the earthquake happened, I saw the whole building.....

1) shaking 2) stretching 3) separating 4) suffering

39- He himself to exercise at least three times a week.

1) developed 2) estimated 3) disciplined 4) prevented

40- Our teacher usually makes all the students a lecture in the class.

- 1) give 2) to give 3) be given 4) that they give

41- The students Dr. Mahdari's class this semester are enjoying it.

- 1) take 2) taking 3) taken 4) are taking

42- It's cold day today that we can't go on a picnic.

- 1) such 2) too 3) a very 4) such a

43- They were so of their son when he was awarded the gold medal for the swimming Olympic match.

- 1) fine 2) flexible 3) proud 4) unexpected

44- We all know that Mrs. Ebadi is a good manager and runs her business very.....

- 1) previously 2) efficiently 3) straightly 4) artificially

45- Sina isabout the result of his blood test.

- 1) willing 2) superior 3) anxious 4) destructive

46- Two people died in the automobile accident and three others were..... injured.

- 1) suddenly 2) mainly 3) seriously 4) briefly

47- 85% of the people living in big cities breathe heavily air.

- 1) concerned 2) polluted 3) particular 4) public

Cloze Test:

Most slang words are used in speaking than in writing. For this reason, few of them can be found in dictionaries (48), slang words are among those used most often. Slang words ...(49)... by some groups such as workers, students, and musicians. They are used to ...(50)... a new object, idea or ...(51)... . At first, only the members of the ...(52)... groups understand the slang words. Later, some of the slang words are used by other people.

اکثر واژگان عامیانه بیشتر در گفتار استفاده می‌شوند تا نوشتار. به همین دلیل، تعداد کمی از آنها را می‌توان در فرهنگ لغات یافت. (۴۸).....، واژگان عامیانه از پرکاربردترین لغات هستند. واژگان عامیانه توسط برخی گروه‌ها مانند کارگران، دانش آموزان و موزیسین‌ها (۴۹)..... . از آنها برای (۵۰) یک شیء، ایده یا (۵۱) جدید استفاده می‌شود. در ابتدا فقط اعضای گروه‌های (۵۲) این واژگان را می‌فهمند. بعدها برخی از این واژگان توسط دیگران نیز استفاده می‌شوند.

- 48- 1) Although 2) Even though 3) Unless 4) However

- 49- 1) are awarded to
2) are made up
3) are written for
4) are performed by
50- 1) describe
2) operate
3) survive
4) provide
51- 1) experiment
2) experience
3) mission
4) instrument
52- 1) fashionable
2) natural
3) regular
4) special

هوش و استعداد تحصیلی (GMAT)

۵۳- یه جعبه ۲۰ تایی سنجاق را به قیمت ۱۸۰۰۰۰ خریده ایم. هر سنجاق را به قیمت ۱۰۰۰۰ فروختیم. چند درصد سود کرده ایم؟ (تهیه شده توسط ایران عرضه)

- ۱۱۱ (۱) ۱۱ (۲) ۸۹ (۳) ۱۰ (۴)

۵۴- نسبت سهام نفر اول به دوم ۱ به ۱/۲۵ است. اگر نفر دوم ۹۰۰ میلیون سود کند، کل سود آنها چه قدر بوده است؟

- ۷۲۰ (۱) ۳۶۰۰ (۲) ۱۶۲۰ (۳) ۴۵۰۰ (۴)

۵۵- ماشینی با سرعت ۵۰ کیلومتر بر ساعت حرکت میکند. به ازای هر ۳۰ کیلومتر که طی میکند یک لیتر بنزین مصرف میکند. اگر باک بنزین ۳۶ لیتر بنزین داشته باشد و ماشین ۹ ساعت با سرعت ۵۰ کیلومتر بر ساعت حرکت کند، چه کسری از بنزین مصرف شده است؟

- $\frac{15}{36}$ (۱) $\frac{3}{12}$ (۲) $\frac{1}{12}$ (۳) $\frac{5}{12}$ (۴)

۵۶- مقدار علامت سوال، کدام است؟

$$\circ * \diamond = 32 \qquad * \square = 40 \circ$$

$$= ? \diamond * \circ * \square \qquad \square * \diamond = 20$$

- ۲۴۰ (۴) ۲۴ (۳) ۱۶۰ (۲) ۸۰ (۱)

راهنمایی: با توجه به اطلاعات زیر به سوالات ۵۷ الی ۶۱ پاسخ دهید.

در مراسم یک مدرسه، هفت دانش آموز به نام های امیر، بابک، جواد، داوود، علی، فرهاد و گرشا باید در هفت نوبت متوالی برنامه اجرا کنند ولی اجراهای آن ها به ترتیب نیست. اطلاعات زیر درباره ترتیب اجرای دانش آموزان شناخته شده است:

- جواد بلافاصله قبل از داوود اجرا میکند.

- گرشا در زمانی بعد از جواد اجرا میکند.

- دقیقا دو اجرا بین اجراهای امیر و علی وجود دارد.

۵۷- اگر امیر دومین اجرا کننده باشد، سومین اجرا کننده مراسم چه کسی خواهد بود؟

(۱) بابک (۲) جواد (۳) داوود (۴) گرشا

۵۸- در کدام یک از نوبت های زیر گرشا نمی تواند اجرا کند؟

(۱) دوم (۲) سوم (۳) چهارم (۴) هیچ کدام

۵۹- اگر بابک و فرهاد از یکدیگر متنفر باشند و بخواهند تا جایی که ممکن است با فاصله بیشتری از هم اجرا کنند به ترتیب

دو اجرا کننده اول چه کسانی میتوانند باشند؟

(۱) فقط امیر و بابک (۲) فقط فرهاد و امیر

(۳) فرهاد و امیر یا بابک و امیر (۴) امیر و بابک یا بابک و امیر

۶۰- آخرین نوبتی که جواد می تواند در آن اجرا کند کدام است؟

(۱) دوم (۲) سوم (۳) چهارم (۴) هیچ کدام

۶۱- اگر معلوم باشد که بابک قبل از فرهاد اجرا میکند، امیر در کدام یک از نوبت های زیر قرار بگیریید تا بتوان ترتیب دقیق

همه اجرا کنندگان را مشخص کرد؟

(۱) دوم (۲) سوم (۳) چهارم (۴) هیچ کدام

۶۲- در یک کلاس به دانشجویان نفری ۲ برگه بدهیم ۱۲ برگه اضافه می آید و اگر نفری ۳ تا برگه بدهیم ۱۲ برگه کم می آید.

تعداد برگه ها چقدر است؟

(۱) ۱۲ (۲) ۲۴ (۳) ۴۸ (۴) ۶۰

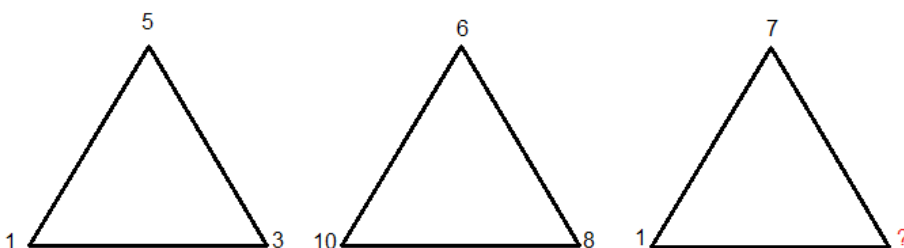
۶۳- مقدار علامت سوال، کدام است؟

(۱) ۴

(۲) ۵

(۳) ۱۰

(۴) ۹



۶۴- علامت سوال چه عددی است؟

۲۴	۴۸	۴۰
۷۲	۱۶	؟
۸	۳۲	۵۶

(۴) ۸۸

(۳) ۸۰

(۲) ۲۴

(۱) ۶۴

❖ فصل هشتم: اصل سوالات آزمون استخدامی بانک سینا آبان ۱۴۰۴

◀ ادبیات فارسی و آیین نگارش

۱- معانی کلمات «منحوس - مذموم - مغضوب» به ترتیب کدام است؟

(۱) بدکار - پیوسته - خشمگین (۲) ناپسند - زشتی - خشن

(۳) نامیمون - زشت - خشم گرفته (۴) بدخوی - بهره‌وری - غضب کرده

❑ پاسخ سایت ایران عرضه: گزینه ۳ ← منحوس: به معنای نامیمون، شوم، بدشگون یا کسی که بخت بد دارد. (ریشه از

"نحس" به معنای بدیمن). این کلمه در ادبیات کلاسیک برای توصیف چیزی که نحوست می‌آورد به کار می‌رود.

مذموم: به معنای زشت، ناپسند، نکوهیده یا قابل سرزنش. (از ریشه "ذم" به معنای نکوهش).

مغضوب: به معنای خشم گرفته، مورد غضب قرار گرفته یا کسی که خدا یا دیگران از او خشمگین هستند. (از ریشه "غضب"

به معنای خشم شدید).

۲- در کدام بیت معنی واژه‌ی مشخص شده، به درستی ذکر شده است؟

(۱) بیچارگی و را چو دیدند / در چاره‌گری زبان کشیدند: سکوت کردند

(۲) دمی آب خوردن پس از بدسگال / به از عمر هفتاد هشتاد سال: بدخلق

(۳) اگر چه در طلبت هم‌عنان باد شمالم / به گرد سروخرامان قامتت نرسیدم: همراه

(۴) هر چه در این دایره بیرون توست / گام سمایت زده در خون توست: سعی و تلاش

۳- معنای چند واژه در مقابل آن نادرست آمده است؟

(محوطه: صحن)، (نیلی: کبود)، (فتح: گشودن)، (جرس: طبل)، (وادی: سرزمین)

(۱) صفر (۲) یک (۳) دو (۴) سه

۴- در کدام عبارت «غلط املائی» می‌توان یافت؟

(۱) پس از گشت و گذار، خسته از نشسته خوب و پاک آن «اسرا» در بستر خویش به خواب رفتم.

(۲) آن شب ماه با تلالو پر شکوهش از راه رسید و گلهای الماس شکفتند و قندیل زیبای پروین سر زد.

(۳) گلهای رنگین شعر و الهام در سموم سرد این عقل بی درد پژمرد و صفای اهورایی درونم را پر از خدا کرد.

(۴) در آن هنگام که بهار حیاط علمی و اجتماعی اش فرارسیده بود ناگهان منقلب شد و چشم‌ها را منتظر گذاشت.

۵- در کدام گروه کلمه غلط املائی یافت میشود؟

(۱) بذله و لطیفه، محفوظ و بهره‌ور (۲) جسیم و خوش اندام، مستغرق و مجذوب

(۳) حشم و خدمتکاران، نمط و طریقه (۴) قسیم و صاحب جمال، حیات و مامت

۶- در متن زیر املائی کدام واژه نادرست است؟

«چندان که این سخن به سمع او رسید و از خرد و جمال و عقل و صلاح او براندیشید رنجور گشت و شرم داشت که اثر تردد ظاهر گردد و نغز و ابرامی به یکدیگر متصل از خود فرانماید و به تائی او واثق بود که تاخیری به جای آورده باشد و بی مراجعت کاری نگزارده»

(۱) صلاح (۲) نغز (۳) نگزارده (۴) تائی

۷- کلمات کدامیک از گزینه های زیر را نمی توان کاهش داد بدون آن که معنای آن عوض شود؟

(۱) مورد استفاده قرار داده است. (۲) مورد ستایش قرار می دهد.

(۳) مورد تصویب قرار داده است. (۴) نشان داده است.

۸- در عبارت «او مثل این که فنرش در رفته باشد دست دراز کرد.» چه آرایه ای به کار رفته است؟

(۱) استعاره (۲) حس آمیزی (۳) کنایه (۴) ایهام

۹- «صاحب گوهر» در عبارت «کافر را غلامی بود مسلمان، «صاحب گوهر» به چه معناست؟

(۱) مطیع و سر به زیر (۲) اصیل و نژاده (۳) قوی و پهلوان (۴) پول دار و ثروتمند

۱۰- مفهوم عبارت زیر یادآور کدام بیت است؟

«از بیم عقرب جزّاره، دموکراسی قرن بیستم، ناچار شده به مار غاشیه حکومت سرهنگ ها پناه ببرد.»

(۱) در خم زلف تو آویخت دل از چاه زرخ / اه کز چاه برون آمد و در دام افتاد

(۲) در عشق تو پای کس ندارد جز من / در شوره کسی تخم نکارد جز من

(۳) معنی فرمانروایی نیست جز اجرای حکم / در سرای خویش هر موری سلیمانی کند

(۴) از ما طلب یاس کن ای خواجه نه امید / کاین جنس متاعی است که در کشور ما نیست

۱۱- مفهوم بیت زیر از کدام بیت دریافت می شود؟

«یک دم غریق بهر خدا شو گمان مبر / کز آب هفت بحر به یک موی تر شوی»

(۱) آشنایان ره عشق در این بحر عمیق / غرقه گشتند و نگشتند به آب آلوده

(۲) جنبش دریا اگر چه موج خوانندش ولی / در حقیقت موج دریا عین آن دریا بود

(۳) نوح را کشتی شکست از لطمه توفان عشق / کس نیامد بر کنار از بحر بی پایان عشق

(۴) یک قصه بیش نیست غم عشق و وین عجب / کز هر زبان که می شنوم نامکرر است

۱۲- بیت زیر با همه ابیات تناسب مفهومی دارد به جز:

«دیروز در غربت باغ من بودم و یک چمن داغ / امروز خورشید در دشت آینه دار من و تو»

(۱) آشیان گم کرده گو دامن نمی ماند خزان / بگذرد بوران و باز آید بهاران غم مخور

(۲) درد بی درمان رسد گاهی به درمان صبر کن / کار بی سامان شود روزی به سامان غم مخور

(۳) صبح امیدی که پنهان است در دل های شب / می شود طالع از آن چاک گریبان غم مخور

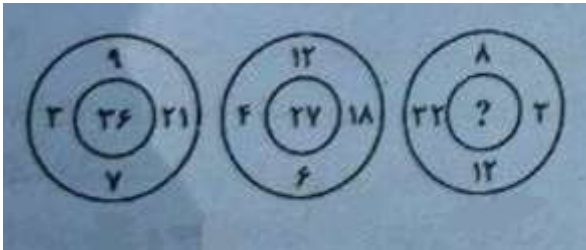
- ۳) انجام دادن فرایض دینی، پاداش معنوی و ترکشان موجب کیفر اخروی خواهد بود.
- ۴) عقل گرایی پدیده ای است که عامل عمده آن، ضعف مسیحیت در پاسخ گویی به نیازهای حقوقی بشر بوده است.

هوش و استعداد تحصیلی (GMAT)

۱۹- اگر روابط روبرو بین اعداد برقرار باشد به جای علامت سوال چه عددی باید قرار بگیرد؟

$74 = ?$	$24 = 7$	$48 = 19$	$32 = 11$
۲۶ (۴)	۲۸ (۳)	۳۲ (۲)	۳۴ (۱)

۲۰- در شکل زیر به جای علامت سوال کدام عدد قرار میگیرد؟



۶۹ (۱)

۴۵ (۲)

۷۲ (۳)

۸۱ (۴)

۲۱- اگر امروز دوشنبه باشد، ۵۹ روز دیگر معادل با چه روزی از هفته خواهد بود؟

- (۱) دوشنبه (۲) سه شنبه (۳) چهارشنبه (۴) پنج شنبه

۲۲- آرش پسر خواهر پدر آراد است. احمد پسر دنیا و دنیا مادربزرگ آراد است. حمید پدر تینا و پدربزرگ آرش است. دنیا

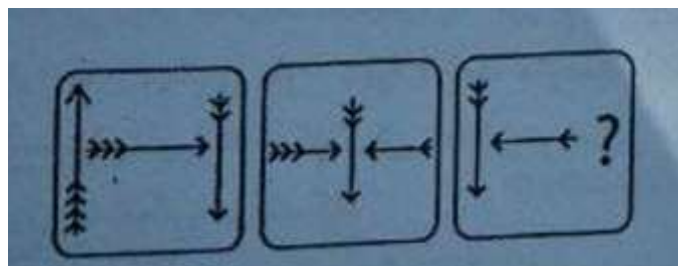
همسر حمید است. آرش چگونه با دنیا مرتبط است؟

- (۱) خواهرزاده (۲) برادرزاده (۳) پسر (۴) نوه


۲۳- نسبت CPU و کامپیوتر مانند تمام گزینه های زیر است به جز:

- (۱) سرآشپز و آشپزخانه (۲) کارگردان و فیلم (۳) مهماندار و هواپیما (۴) مغز و انسان

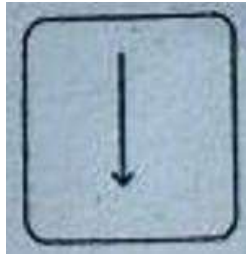
۲۴- کدام گزینه به جای علامت سوال قرار بگیرد تا الگوی شکلی زیر کامل گردد؟



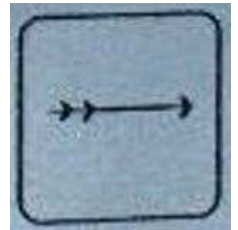
(۱)



(۲)



(۳)



(۴)



*** توجه: متن زیر را به دقت بخوانید و با توجه به اطلاعات داده شده به سؤالات ۲۵ تا ۳۰ پاسخ دهید.

یک گروه سه نفره از دانش آموزان باید اشعاری را در کلاس ادبیات بخوانند. هر یک از سه دانش آموز - فرهاد، گرشا و هادی

حداقل یکی از چهار شعر شعرای حافظ، سعدی، مولوی و فردوسی را با شرایط زیر خواهند خواند:

شرط اول) هیچ دانش آموزی هر دو شعر مولوی و فردوسی را نمی خواند.

شرط دوم) هادی شعرهای بیشتری نسبت به گرشا و فرهاد می خواند.

شرط سوم) هر دانش آموزی که شعر سعدی را میخواند، شعر حافظ را نیز می خواند.

شرط چهارم) هر شعری که توسط فرهاد خوانده شود، توسط گرشا نیز خوانده می شود.

۲۵- کدام یک از موارد زیر میتواند فهرستی کامل و دقیق از شعرهایی باشد که دانش آموزان خوانده اند؟

(۱) فرهاد: سعدی، حافظ / گرشا: سعدی، حافظ، مولوی / هادی: حافظ، مولوی

(۲) فرهاد: مولوی / گرشا: حافظ، سعدی / هادی: حافظ، سعدی

(۳) فرهاد: مولوی / گرشا: مولوی / هادی: حافظ، سعدی

(۴) فرهاد: حافظ / گرشا: حافظ / هادی: سعدی، مولوی

۲۶- کدام یک از موارد زیر باید درست باشد؟

(۱) گرشا شعرهای بیشتری نسبت به فرهاد می خواند.

(۲) اگر گرشا سعدی را بخواند. فرهاد نیز سعدی را می خواند.

(۳) اگر فرهاد سعدی را بخواند، گرشا حافظ را می خواند.

(۴) اگر هادی مولوی را بخواند، فرهاد و گرشا آن را نمی خوانند.

۲۷- اگر هادی شعرهای مولوی با فردوسی را نخواند، آنگاه همه موارد زیر می تواند درست باشد، به جز:

(۱) فرهاد فردوسی را می خواند. (۲) گرشا مولوی را می خواند.

(۳) هر سه دانش آموز حافظ را می خوانند. (۴) دقیقاً دو دانش آموز شعر سعدی را می خوانند.

۲۸- کدام یک از موارد زیر باید درست باشد؟

(۱) فرهاد نمی تواند شعر سعدی را بخواند مگر اینکه هادی بخواند.

(۲) فرهاد و گرشا همیشه حداقل یک شعری را می خوانند که هادی هم می خواند.

(۳) هادی فقط زمانی می تواند شعر فردوسی را بخواند که گرشا آن را نخواند.

(۴) شعر فردوسی حداکثر توسط دو دانش آموز خوانده می شود.

۲۹- اگر هر شعر حداقل توسط یک دانش آموز خوانده شود، هر یک از موارد زیر می تواند درست باشد به جز:

(۱) حداقل یک شعر توسط هر سه دانش آموز خوانده می شود.

(۲) فرهاد دقیقاً همان شعرهایی را می خواند که گرشا می خواند.

(۳) گرشا بیشتر از فرهاد شعر می خواند.

(۴) شعر سعدی توسط فرهاد یا گرشا خوانده می شود.

۳۰- چند روش مختلف وجود دارد که شعرها به گونه ای تخصیص داده شوند که هر شعر حداقل توسط یک دانش آموز خوانده شود؟

(۱) ۵ (۲) ۶ (۳) ۷ (۴) ۸

*** توجه: برای پاسخگویی به سؤالهای ۳۱ و ۳۲ لازم است موقعیتی را که در هر سؤال مطرح شده، مورد تجزیه و تحلیل قرار دهید و سپس گزینه ای را که فکر میکنید پاسخ مناسب تر و کامل تری برای آن سؤال است انتخاب کنید.

۳۱- "صادرات و واردات تراز تجاری رو به رشد و مطلوب سرمایه گذارها و موجودی بانکها شاخصی برای رفاه ملی نیستند. تا آغاز جنگ جهانی دوم، صادرات انگلیس به طور قابل توجهی بیشتر از آنچه امروز است، بود. با این حال، انگلستان امروز رفاه ملی بیشتری نسبت به هر زمان دیگری دارد زیرا درآمد متوسط انگلیسیها، که به عنوان کارگران مزرعه و کارخانه، کارمندان، پلیسها، مغازه داران کوچک و دستیاران فروشگاه، کارگران خانگی و سایر کارکنان با دستمزد پایین کار میکنند، افزایش یافته است." این متن به بهترین وجه از این گفته پشتیبانی می کند که:

(۱) تجارت انگلیس از زمان جنگ جهانی دوم به طور مداوم افزایش یافته است.

(۲) اقتصاد یک کشور با افزایش صادرات تقویت می شود.

(۳) تراز تجاری یک کشور معیار اصلی تعیین رفاه اقتصادی آن است.

(۴) استاندارد اقتصادی یک کشور را می توان به بهترین وجه با درآمد سرانه قضاوت کرد.

۳۲- «مفهوم شانس اخلاقی، دیدگاه سنتی را که معتقد است مسئولیت اخلاقی تنها باید بر اساس عواملی که در کنترل فرد است تعیین شود، به چالش می کشد. شانس اخلاقی زمانی رخ می دهد که جنبه های اخلاقی مهم اعمال یک فرد یا پیامدهای

آن به عواملی وابسته باشد که خارج از کنترل او هستند. برای مثال، یک راننده خواب آلود که عابری را به قتل می‌رساند، معمولاً سخت‌گیرانه‌تر از راننده‌ای قضاوت می‌شود که با همان میزان خواب آلودگی رانندگی می‌کند اما بدون حادثه به خانه می‌رسد. این مسئله پرسش‌های پیچیده‌ای درباره عدالت و سازگاری قضاوت‌های اخلاقی ما مطرح می‌کند.»

کدام یک از جملات زیر، اگر درست باشد، بیشترین تضعیف را برای این استدلال در پی خواهد داشت؟ {ا پ ر ا ن ع ر ض ه}

(۱) قضاوت‌های اخلاقی باید عمدتاً در نیت فرد تمرکز کنند.

(۲) پیامدهای یک عمل همیشه برای ارزیابی اخلاقی مهم هستند.

(۳) افراد باید تنها نسبت به نتایجی که معقولانه می‌توانند پیش بینی و کنترل کنند مسئول باشند.

(۴) نظام‌های حقوقی به طور مداوم بین پیامدهای عمدی و غیر عمدی تمایز قائل می‌شوند.

۳۳- در یک کلاس ۳۰ دانش‌آموز وجود دارد که ۱۵ نفر آنها پسر و ۱۵ نفر دختر هستند. در امتحان نهایی، ۵ پسر و ۴ دختر نمره ۲۰ گرفتند. اگر یک دانش‌آموز به طور تصادفی از کلاس انتخاب شود، احتمال انتخاب یک دختر با یک دانش‌آموز با نمره ۲۰ چقدر است؟

(۱) $\frac{2}{3}$ (۲) $\frac{3}{10}$ (۳) $\frac{1}{3}$ (۴) $\frac{1}{4}$

۳۴- چهار کشور ایران، اسپانیا، پرتغال و کامرون در یک گروه رقابت‌های جام جهانی قرار گرفته‌اند. چند بازی باید انجام شود تا تمام کشورها با یکدیگر یکبار بازی کنند؟

(۱) ۴ (۲) ۵ (۳) ۶ (۴) ۷

۳۵- در ساحل یک دریا هزینه اجاره یک ساعت بالون تفریحی ۲۰۰ هزار تومان بیشتر از هزینه اجاره یک ساعت قایق است. اگر یک نفر بالون را به مدت ۳ ساعت و قایق را به مدت ۵ ساعت اجاره کند و جمع کل مبلغ پرداختی آن ۲ میلیون تومان باشد، هزینه اجاره یک ساعت بالون چقدر است؟

(۱) ۳۷۵ هزار تومان (۲) ۱۷۵ هزار تومان (۳) ۲۲۵ هزار تومان (۴) ۳۲۵ هزار تومان

۳۶- عددی از دو رقم تشکیل شده است که مجموع آنها ۱۱ است. اگر ۲۷ به این عدد اضافه شود جای ارقام عوض می‌شود. آن عدد چیست؟

(۱) ۳۷ (۲) ۴۷ (۳) ۶۵ (۴) ۸۳

۳۷- اگر تمام اعداد ۱ تا ۱۰۰ را بنویسید چند بار عدد ۳ را می‌نویسید؟

(۱) ۱۰ (۲) ۱۱ (۳) ۲۰ (۴) ۲۱

۳۸- یک مخزن مکعبی ۲۷ متر مکعب حجم دارد. طول آن را ۳ برابر می‌کنیم، عرض آن را ۲ برابر و ارتفاع آن را ۴ برابر، حجم مخزن جدید چند متر مکعب خواهد بود؟

(۱) ۷۲ (۲) ۲۸۶ (۳) ۶۴۸ (۴) ۸۶۴

مهارت‌های هفتگانه کامپیوتر (ICDL)

۳۹- برای ارسال رونوشت پست الکترونیک به شخص دیگر به گونه ای که سایر افراد متوجه وجود آن نشوند، آدرس آن در کدام بخش نوشته می شود؟

TO (۱) BCC (۲) CC (۳) SEND (۴)

۴۰- کدام گزینه فهرستی از سایتهایی که اخیراً مشاهده شده است را نمایش می دهد؟

History (۱) Favorites (۲) Forward (۳) History (۴)

۴۱- دکمه Start روی کدام نوار قرار دارد؟

Scroll Bar (۱) Tool Bar (۲) Task Bar (۳) Status Bar (۴)

۴۲- برنامه های در حال اجرا در محیط ویندوز در کدام قسمت نشان داده می شوند؟

System tray Bar (۱) Task manager (۲)

Toolbar (۳) Start (۴)

۴۳- از کدام دستور برای ایجاد یادداشت اضافی در سلول استفاده می شود؟

Fill (۱) Comment (۲) handle (۳) Margin (۴)

۴۴- در پنجره Print در بخش Copies عددی که داخل مستطیل Number of copies مشخص می کنیم مبین چه چیزی می باشد؟

(۱) اندازه صفحه چاپی (۲) تعداد نسخه هایی که از هر صفحه چاپ می شود

(۳) کیفیت چاپ بر حسب dpi (۴) درصد چاپ نسبت به نرمال

۴۵- در صفحه پیش نمایش Word کاربرد دکمه Margins چیست؟

(۱) بزرگ نمایی صفحه پیش نمایش (۲) بازگشت به صفحه word

(۳) رفتن صفحات بعد (۴) دیدن خطوط حاشیه ای

۴۶- جهت مخفی و ظاهر کردن نوار ابزار و دکمه ها در نرم افزار Word از کدام منو استفاده می شود؟

FILE (۱) TOOL (۲) VIEW (۳) INSERT (۴)

۴۷- برای انتخاب چند سطر غیر همجوار در Word از کدام کلید استفاده می شود؟

SHIFT (۱) ALT (۲) CTRL (۳) SPACE (۴)

۴۸- در تنظیمات پاراگراف تو رفتگی ابتدای آن از کدام بخش استفاده می شود؟

Spacing (۱) Indentation (۲) Direction (۳) Alignment (۴)

۴۹- برای اینکه در خانه A5 اعداد به صورت درصد نمایش داده شود آن را از چه نوعی تعریف می کنیم؟

Percentage (۱) Fraction (۲) Currency (۳) Scientific (۴)

۵۰- مطلق سلول B6 کدام است ؟

مفاهیم پولی، مالی و خدمات بانکی

۵۱- جمع خالص تعهدات مقامات پولی یا بانک مرکزی با کدام گزینه برابر است؟

- (۱) اسکناس و مسکوک
(۲) جمع سپرده بانک ها نزد بانک مرکزی
(۳) عرضه پول
(۴) پول قدرتمند

۵۲- افزایش نسبت اسکناس به سپرده و افزایش نسبت ذخیره به سپرده به ترتیب چه اثری بر حجم پول در گردش دارند؟

(۱) هر دو حجم پول را کاهش میدهند.

(۲) هر دو حجم پول را افزایش میدهند.

(۳) اولی حجم پول را کاهش و دومی افزایش می دهد.

(۴) اولی حجم پول را افزایش و دومی کاهش میدهد.

۵۳- سریعترین ابزار در دست بانک مرکزی برای کنترل حجم پول کدام است؟ (تهیه شده توسط ایران عرضه)

- (۱) نرخ تنزیل مجدد (۲) ذخیره قانونی (۳) عملیات بازار باز (۴) سیاست های عرضه

۵۴- کدام گزینه به تورم شدیدتر و مداوم تر منجر می شود؟

(۱) افزایش دیگر کالاهای وارداتی مصرفی غیر ضروری

(۲) افزایش قیمت کالاهای سرمایه ای وارداتی که سهم ناچیزی در تولید دارند.

(۳) افزایش واردات و کاهش صادرات

(۴) افزایش قیمت کالاها و خدمات وارداتی مصرفی ضروری

۵۵- کدام یک از ابزارهای زیر برای تضمین پرداخت تعهدات در قراردادهای بانکی یا تجاری، توسط بانک صادر میشود؟

- (۱) سفته (۲) چک (۳) ضمانت نامه بانکی (۴) تمبر مالیاتی

۵۶- کدام گزینه از عوامل ایجاد محدودیت در مبادلات با کالاهای پولی به شمار نمی رود؟

(۱) امکانات نگهداری کالاهای

(۲) فساد کالاهای پولی

(۳) ارزشگذاری کالاهای پولی

(۴) حمل و نقل کالاهای پولی

۵۷- چرا بانکها مبادرت به اعطای وام و سرمایه گذاری می نمایند؟

(۱) کاهش هزینه های بانک

(۲) کسب درآمد

(۳) فراهم آوری نقدینگی مورد نیاز خود

(۴) ارائه خدمات به سپرده گذاران

۵۸- هر مؤسسه اعتباری مجاز به افتتاح و نگهداری چند حساب به نام هر شخص محجور میباشد؟ تعداد کل حساب های

قابل افتتاح شبکه بانکی برای اشخاص محجور چند حساب است؟

- (۱) یک حساب - یک حساب (۲) یک حساب - چهار حساب

۵۹- در بانک سینا کنترل این نسبت بسیار حائز اهمیت است چون اگر این نسبت حفظ نشود منجر به استقراض از بانک مرکزی یا بازار بین بانکی می شود. کدامیک از گزینه های زیر بیانگر این نسبت است؟

۱) نسبت منابع به مصارف

۲) نسبت مطالبات به منابع

۳) نسبت مصارف به منابع

۴) نسبت وصولی به مطالبات

۶۰- بانک تمام دیجیتال سینا که دسترسی به تمام خدمات بانکی را بدون محدودیت زمانی و مکانی و از طریق اپلیکیشن موبایل در بانک سینا برای کاربران فراهم میکند چه نام دارد؟

۱) سیاد

۲) موبایل بانک

۳) سیبانک

۴) بلو بانک

۶۱- کارتی با نام و با قابلیت شارژ مجدد که به درخواست شرکتها و سازمانها جهت ارائه به پرسنل خود در بانک سینا صادر میگردد جایگزین مناسبی برای کمکهای غیر نقدی سازمانها می باشد، چه نام دارد؟ (ایران عرضه)

۱) کارت نقدی سینا

۲) کارت تنخواه سینا

۳) بن کارت ویژه سینا

۴) کارت هدیه سینا

۶۲- سقف دریافت تسهیلات از محل منابع بانک برای اشخاص حقیقی و حقوقی بر اساس آخرین ابلاغ بانک مرکزی در حال حاضر به ترتیب عبارتست از:

۱) ۲۰۰ میلیون تومان - ۷۰۰ میلیون تومان

۲) ۴۰۰ میلیون تومان - نامحدود

۲) ۹۰۰ میلیون تومان - ۴۰۰ میلیون تومان

۴) ۴۰۰ میلیون تومان - ۹۰۰ میلیون تومان

۶۳- کدام یک از موارد ذیل جز منابع بانک برای پرداخت وام قرض الحسنه می باشد؟

۱) سود انباشته

۲) اقساط وصولی

۳) سپرده قانونی

۴) وجوه نقد خزانه

۶۴- وظیفه اصلی «بانک مرکزی جمهوری اسلامی ایران» چیست؟

۱) اعطای تسهیلات به عموم مردم

۲) نظارت بر شبکه بانکی و اجرای سیاست های پولی

۳) رقابت با بانک های تجاری

۴) مدیریت صندوق های قرض الحسنه خود

۶۵- جذب سپرده های برای بانک سود بیشتری دارد.

۱) قرض الحسنه پس انداز

۲) قرض الحسنه جاری

۳) بلند مدت

۴) کوتاه مدت

۶۶- اختصاص هرگونه ابزار پرداخت به حساب های سپرده اشخاص ممنوع است.

۱) کمتر از ۱۳ سال تمام

۲) بیشتر از ۱۳ سال تمام

۳) کمتر از ۷ سال تمام

۴) بیشتر از ۷ سال تمام

۶۷- کدامیک از کاربردهای عمومی خودپراز نمی باشد؟

۱) انتقال وجه

۲) پرداخت وجه به مشتریان

زبان انگلیسی

68- Wear warm clothes. I think it

- 1) is going to snow 2) is snowing 3) will snow 4) won't snow

69- The repair shop was closed, so I fixed the car

- 1) mine 2) myself 3) I 4) me

70- Sammy..... for us when we got off the plane.

- 1) is waiting 2) waited 3) Waits 4) was waiting

71- The man is wearing a Jacket.

- 1) big black leather 2) Black big leather
3) red modern leather 4) red leather modern

72- There's nothing than going out in the cold with wet hair,

- 1) clear 2) polar 3) worse 4) frozen

73- Although the government cannot control the sharp increase in divorce rate, the president insists on his programs against the crisis.

- 1) reporting 2) increasing 3) identifying 4) defending

74- Because of..... conditions, the hikers decided to give up trying to climb the mountain.

- 1) vague 2) ungainly 3) adverse 4) vigorous

75- Gemsbok national park is full ofand is very popular with visitors.

- 1) earache 2) role 3) martyrs 4) wildlife

76- There is no doubt that the front runner in this presidential race is James Dott, but Wallis Graham is a potential horse.

- 1) sitting 2) running 3) white 4) dark

77- The regulatory authority's decision to the newly proposed banking laws was welcomed by financial institutions, as it provided clearer guidelines for compliance.

- 1) defer 2) revoke 3) approve 4) undermine

78 -It's always a good idea to do some before you buy a house.

- 1) success 2) knowledge 3) experiment 4) research

79- My throat hurts, and I have a fever. Can I have some cold?

- 1) science 2) organs 3) pictures 4) medicine

80- Edison did a lot experiments and at last the first light bulb.

- 1) gave up 2) invented 3) succeeded 4) solved

81- Maryam: Do you like to your organs in brain death?

Farhad: Why not?! We can save many lives by doing so.

- 1) defend 2) donate 3) transfer 4) carry

82- is traveling for entertainment or learning about the culture of a

- 1) Tourism – nation 2) Vacation – country
3) Trip – people 4) Tourism – sport

Reading Comprehension:

In recent years, digital technology has transformed the way people manage their finances. Instead of visiting a bank branch, customers now perform most financial operations through online and mobile banking. These platforms allow users to transfer money, pay bills, check account balances, and even apply for loans from the comfort of their homes. This convenience saves time and reduces paperwork, making financial services faster and more accessible. However, this change has also brought new challenges. One of the biggest concerns is cybersecurity. As banks move online, hackers try to steal customers' information through fake websites or messages. To protect users, banks have introduced two-factor authentication strong passwords, and regular security updates. Customers must also learn to recognize scams and avoid sharing private details online. Despite the risks, most people prefer digital banking because it is efficient and easy to use. In addition, many banks now combine technology with personal service. They use chatbots and artificial intelligence to answer simple questions instantly, while human advisors handle more complex financial issues. In the future, digital banking will likely continue to expand, offering even smarter tools to help customers manage their money safely.

83- What is the main advantage of online and mobile banking?

- 1) It allows people to earn more money.
2) It helps customers manage their finances without visiting a branch.
3) It prevents all online crimes.

4) It increases the number of bank employees.

84- What is one major problem caused by digital banking?

- 1) Customers cannot save money.
- 2) Hackers may steal personal information.
- 3) Bank branches are becoming more expensive.
- 4) People forget how to use paper forms.

85-What is the purpose of two-factor authentication?

- 1) To make websites look more attractive.
- 2) To help customers choose loans more easily.
- 3) To improve online security.
- 4) To increase banking fees.

86- According to the passage, how are banks using artificial intelligence?

- 1) To print paper bills.
- 2) To answer simple customer questions quickly.
- 3) To replace all human advisors.
- 4) To open new branches in every city.

87- Which of the following best summarizes the passage?

- 1) Digital banking is convenient but requires strong security and smart management.
- 2) Traditional banking is safer and more reliable than online banking.
- 3) Bank employees are no longer needed in the digital age.
- 4) Online banking will completely disappear in the near future.